

БЛАНК ЗАДАНИЙ
ВСЕРОССИЙСКАЯ ОЛИМПИАДА ШКОЛЬНИКОВ ПО ИСТОРИИ
школьный этап 2023-2024 учебный год,
8 класс

Уважаемый участник!

Вам предстоит выполнить теоретические (письменные) задания.
Время выполнения заданий теоретического тура 90 минут.
Выполнение теоретических (письменных) заданий целесообразно организовать следующим образом:
– не спеша, внимательно прочитайте задание и определите, наиболее верный и полный ответ;
– отвечая на теоретический вопрос, обдумайте и сформулируйте конкретный ответ только на поставленный вопрос;
– особое внимание обратите на задания, в выполнении которых требуется выразить Ваше мнение с учетом анализа ситуации или поставленной проблемы. Внимательно и вдумчиво определите смысл вопроса и логику ответа (последовательность и точность изложения). Отвечая на вопрос, предлагайте свой вариант решения проблемы, при этом ответ должен быть кратким, но содержать необходимую информацию;
– после выполнения всех предложенных заданий еще раз удостоверьтесь в правильности выбранных Вами ответов и решений;
– спланируйте время так, чтобы на выполнение творческого задания у вас осталось достаточно времени;
Олимпиадные задания считаются выполненным, если Вы вовремя сдаете его членам жюри.

Максимальная оценка – 80 баллов.

ВСЕРОССИЙСКАЯ ОЛИМПИАДА ШКОЛЬНИКОВ ПО ИСТОРИИ
ШКОЛЬНЫЙ ЭТАП, 8 КЛАСС

Задание 1. 50
Определите, по какому принципу образованы ряды. Подчеркните лишний элемент. За каждый правильный ответ – 2 балла. 1 балл за правильно указанное исключение, максимальный балл – 12

1. Изборск, Копорье, Старая Ладога, Корела
Корела в Софии.
2. А.Ф. Адашев, А.М. Курбский, И. Висковский, А.Д. Басманов
Израильская раба
3. Феофан Грек, Дионисий, Нил Сорский, Андрей Рублев
Иоанн Златоуст
4. 1603г., 1606 – 1607г., 1632 – 1634гг., 1648г.
Восстания.

ВСЕРОССИЙСКАЯ ОЛИМПИАДА ШКОЛЬНИКОВ ПО ИСТОРИИ
ШКОЛЬНЫЙ ЭТАП, 8 КЛАСС

Задание 2. 06

Расположите в хронологической последовательности исторические события. Ответы (в виде сочетания букв) внесите в таблицу. За каждую последовательность – 3 балла. Максимальный балл – 9

1. А) Битва на р. Калке
- Б) Куликовская битва
- В) Первое упоминание о Москве
- Г) Принятие христианства князем Владимиром
2. А) Крестьянское восстание под предводительством И.И. Болотникова
- Б) Поход Лжедмитрия I на Москву
- В) Учреждение патриаршества в России
- Г) Избрание Земским собором на царстве Михаила Романова
3. А) Военная реформа: создание регулярных полков из даточных людей и полков иноземного строя
- Б) Ликвидация приказов, учреждение коллегий
- В) Введение нового летоисчисления
- Г) Земская и губная реформы, отмена кормлений

1	2	3
всдв	всдв	всдв

Задание 3. 40

Впишите правильную букву или буквы вместо пропусков (там, где это необходимо). За правильно написанное слово – 1 балл, максимальный балл – 5

- 1) аб-опло-изм +
- 2) к.л.д.егия +
- 3) пр-к.у.ор +
- 4) ф-во-ит +
- 5) с-культ-р-зация -

Задание 4. 30

Если вы согласны с утверждением, напишите «да», если не согласны – «нет», и исправьте ошибку. Ответ внесите в таблицу. За каждый правильный ответ – 1 балл, максимальный балл – 6

1. Во время битвы при Нарве (1700) шведы полностью разгромили российский флот
2. Захватив с 1702 по 1704 г. Нотебург, Ниеншанц, Ям, Копорье, Нарву и Дерпт, Пётр предлагал Карлу XII мир, который шведский король отверг
3. Санкт-Петербург стал столицей только через 10 лет после своего основания
4. Под Полтавой в 1709 г. армия Карла XII была разгромлена союзными войсками России. Польши и Османской империи
5. Пётр отменил рекрутский набор и учредил всеобщую воинскую повинность
6. Пётр отменил в Русской церкви патриаршество и учредил Священный Синод

1	2	3	4	5	6
нет-нет	нет +	да +	да +	нет +	да +

Задание 5. 40

Соотнесите языческих богов и явление природы, которое они олицетворяли. Ответ внесите в таблицу. За каждый правильный ответ – 1 балл, максимальный балл – 4

- | | |
|------------------------|------------|
| 1. Плодородие | А) Перун |
| 2. Гроза, гром, молния | Б) Велес |
| 3. Солнце | В) Мокошь |
| 4. Скот | Г) Стрибог |

ВСЕРОССИЙСКАЯ ОЛИМПИАДА ШКОЛЬНИКОВ ПО ИСТОРИИ
ШКОЛЬНЫЙ ЭТАП. 8 КЛАСС

5. Ветер

А	Б	В	Г
2+	4+	1+	3+

Задание 6.

Установите соответствие между именем князя и его историческим прозвищем. Ответ внесите в таблицу. За каждый правильный ответ — 1 балл, максимальный балл — 4

- 1) Василий II
2) Семен
3) Иван III
4) Иван IV
- А) Грозный II
Б) Великий
В) Гордый
Г) Темный
Д) Грозные Очи

1	2	3	4
7+	6+	6+	4+

Задание 7.

Соотнесите даты и события. Ответ внесите в таблицу. За каждый правильный ответ — 2 балла, максимальный балл — 10

- А) 1097
Б) 1462 – 1505
В) 1551
Г) 1497
Д) 1111
1. Стоглавый собор
2. Начало закрепощения крестьян
3. Крестовый поход против половцев
4. Княжение Ивана III
5. Любечский съезд князей

А	Б	В	Г	Д
5+	4+	1+	2+	3+

Задание 8.

Укажите исторические термины, которые объяснены неверно. Обведите номер нужного ответа. За каждый правильный ответ — 2 балла, максимальный балл — 10

- 1) Барщина — повинность, отбываемая крепостными в пользу помещика
2) Путь из варяг в греки — направления грабительских походов варягов/норманнов
3) Закупы — категория вольного населения Древней Руси
4) Стрельцы — телохранители императора России
5) Соха — единица податного обложения на Руси в XIII – XVII веках
6) Стольник — слуга, обслуживающий князя или царя
7) Тюфяк — пушки, оборонявшие Москву от войск хана Тохтамыша
8) Чудь — древнерусское название ряда сибирских племён и народов

Задание 9.

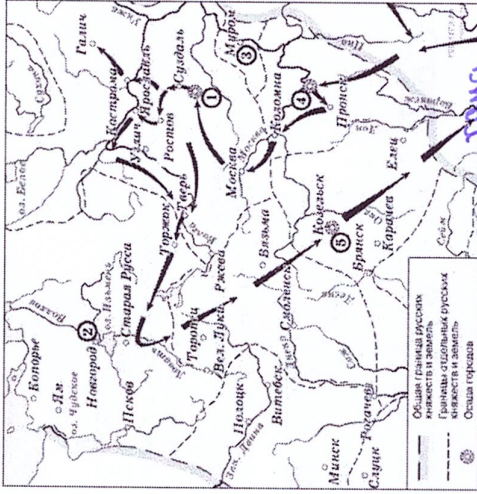
Назовите второй по величине город Красноярья, самый крупный в мире город, расположенный за Полярным кругом. 5 баллов за правильный ответ

Копейск

ВСЕРОССИЙСКАЯ ОЛИМПИАДА ШКОЛЬНИКОВ ПО ИСТОРИИ
ШКОЛЬНЫЙ ЭТАП. 8 КЛАСС

Задание 10. 9/6

Рассмотрите карту и выполните задания. За каждый правильный ответ — 3 балла, максимальный балл — 15.



10.1. К какому событию относится данная карта? **Побег датчан по реке.**

10.2. Напишите имя полководца, осуществившего поход, обозначенный на схеме стрелками **Ростом: 28**

10.3. Напишите название города, обозначенного на схеме цифрой «1»

Владимир

10.4. Напишите цифру, которой обозначена земля, где во время похода, обозначенного на схеме, существовала республиканская форма правления **4**

10.5. Какие суждения, относящиеся к событиям, обозначенным на схеме, являются верными? Выберите 3 суждения из шести предложенных (1 балл за каждое правильное суждение). Обведите верные ответы:

1. Завоеватели начали вторжение в пределы Руси, захватив город, обозначенной на схеме цифрой «4»
2. Город, обозначенный на схеме цифрой «5», не выдержал осады более одной недели
3. Поход, обозначенный на схеме стрелками, длился более 5 лет
4. Боярин Евпатий Коловрат прославился своей храбростью при обороне города, обозначенного на схеме цифрой «1»
5. Одной из причин победы завоевателей, осуществивших поход, были междоусобицы русских князей
6. Полководец, поход которого обозначен на схеме, создал впоследствии государство

БЛАНК ЗАДАНИЙ

ВСЕРОССИЙСКОЙ ОЛИМПИАДЫ ШКОЛЬНИКОВ ПО ИСТОРИИ

школьный этап 2023-2024 учебный год,

8 класс

Уважаемый участник!

Вам предстоит выполнить теоретические (письменные) задания.
 Время выполнения заданий теоретического тура 90 минут.
 Выполнение теоретических (письменных) заданий целесообразно организовать следующим образом:

- не спеша, внимательно прочитайте задание и определите, наиболее верный и полный ответ;
- отвечая на теоретический вопрос, обдумайте и сформулируйте конкретный ответ только на поставленный вопрос;
- особое внимание обратите на задания, в выполнении которых требуется выразить Ваше мнение с учетом анализа ситуации или поставленной проблемы. Внимательно и вдумчиво определите смысл вопроса и логику ответа (последовательность и точность изложения). Отвечая на вопрос, предлагайте свой вариант решения проблемы, при этом ответ должен быть кратким, но содержать необходимую информацию;
- после выполнения всех предложенных заданий еще раз удостоверьтесь в правильности выбранных Вами ответов и решений;
- спланируйте время так, чтобы на выполнение творческого задания у вас осталось достаточно времени;

Олимпиадные задания считаются выполненным, если Вы вовремя сдасте его членам жюри.

Максимальная оценка – 80 баллов.

ВСЕРОССИЙСКАЯ ОЛИМПИАДА ШКОЛЬНИКОВ ПО ИСТОРИИ
ШКОЛЬНЫЙ ЭТАП. 8 КЛАСС

Задание 1.

Определите, по какому принципу образованы ряды. Подчеркните лишний элемент. За каждый правильный ответ – 2 балла. 1 балл за правильно указанное исключение, максимальный балл – 12

1. Изборск, Копорье, Старая Ладога, Корела

Севастополь

2. А.Ф. Адашев, А.М. Курбский, И. Висковатый, А.Д. Басманов

Земский собор 1689г.

3. Феофан Грек, Днилович, Нил Сорский, Андрей Рублев

Иоанн Печерский

4. 1603г., 1606 – 1607гг., 1632 – 1634гг., 1648г.

Кремль

ВСЕРОССИЙСКАЯ ОЛИМПИАДА ШКОЛЬНИКОВ ПО ИСТОРИИ
ШКОЛЬНЫЙ ЭТАП. 8 КЛАСС

Задание 2.

Расположите в хронологической последовательности исторические события. Ответы (в виде сочетания букв) внесите в таблицу. За каждую последовательность – 3 балла, максимальный балл – 9

- А) Битва на р. Калке
- Б) Куликовская битва
- В) Первое упоминание о Москве
- Г) Принятие христианства князем Владимиром
- А) Крестьянское восстание под предводительством И.И. Болотникова
- Б) Поход Лжедмитрия I на Москву
- В) Учреждение патриаршества в России
- Г) Избрание Земским собором на царстве Михаила Романова
- А) Военная реформа: создание регулярных полков из даточных и охочих людей и полков иноземного строя
- Б) Ликвидация приказов, учреждение коллегий
- В) Введение нового летоисчисления
- Г) Земская и губная реформы, отмена кормлений

1	2	3
бвга	вбав	вабг

Задание 3.

Впишите правильную букву или буквы вместо пропусков (там, где это необходимо).

За правильно написанное слово – 1 балл, максимальный балл – 5

- абсолютизм
- контрреформы
- протекторат
- федерализм
- скульптура

Задание 4.

Если вы согласны с утверждением, напишите «да», если не согласны – «нет», и исправьте ошибку. Ответ внесите в таблицу. За каждый правильный ответ – 1 балл, максимальный балл – 6

- Во время битвы при Нарве (1700) шведы полностью разгромили российский флот.
- Захватив с 1702 по 1704 г. Нотебург, Ниеншанц, Ям, Копорье, Нарву и Дерпт, Пётр предлагал Карлу XII мир, который шведский король отверг
- Санкт-Петербург стал столицей только через 10 лет после своего основания
- Под Полтавой в 1709 г. армия Карла XII была разгромлена союзными войсками России, Польши и Османской империи
- Петр отменил рекрутский набор и учредил всеобщую воинскую повинность
- Петр отменил в Русской церкви патриаршество и учредил Священный Синод

1	2	3	4	5	6
нет	нет	да	да	нет	да

Задание 5.

Соотнесите языческих богов и явление природы, которое они олицетворяли. Ответ внесите в таблицу. За каждый правильный ответ – 1 балл, максимальный балл – 4

- | | |
|------------|------------------------|
| А) Перун | 1. Плодородие |
| Б) Велес | 2. Гроза, гром, молния |
| В) Мокошь | 3. Солнце |
| Г) Стрибог | 4. Скот |

ВСЕРОССИЙСКАЯ ОЛИМПИАДА ШКОЛЬНИКОВ ПО ИСТОРИИ
ШКОЛЬНЫЙ ЭТАП. 8 КЛАСС

5. Ветер

А	В	Б	Г
28	1	4	3

Задание 6.

Установите соответствие между именем князя и его историческим прозвищем. Ответ внесите в таблицу. За каждый правильный ответ – 1 балл, максимальный балл – 4

- 1) Василий II
2) Семен
3) Иван III
4) Иван IV
- А) Грозный
Б) Великий
В) Гордый
Г) Темный
Д) Грозные Очи

1	2	3	4
28	10	10	10

Задание 7.

Соотнесите даты и события. Ответ внесите в таблицу. За каждый правильный ответ – 2 балла, максимальный балл – 10

- А) 1097
Б) 1462 – 1505
В) 1551
Г) 1497
Д) 1111
1. Стоглавый собор
2. Начало закрепощения крестьян
3. Крестовый поход против половцев
4. Княжение Ивана III
5. Любеческий съезд князей

А	Б	В	Г	Д
5	1	1	2	3

Задание 8.

Укажите исторические термины, которые объяснены неверно. Обведите номер нужного ответа. За каждый правильный ответ – 2 балла, максимальный балл – 10

- 1) Барщина – повинность, отбываемая крепостными в пользу помещика
2) Путь из варяг в греки – направления грабительских походов варягов/норманнов
3) Закупы – категория вольного населения Древней Руси
4) Стрельцы – телохранители императора России
5) Соха – единица податного обложения на Руси в XIII - XVII веках
6) Стольник – слуга, обслуживающий князя или царя
7) Тюфяк – пушки, оборонявшие Москву от войск хана Тохтамыша
8) Чудь – древнерусское название ряда сибирских племен и народов

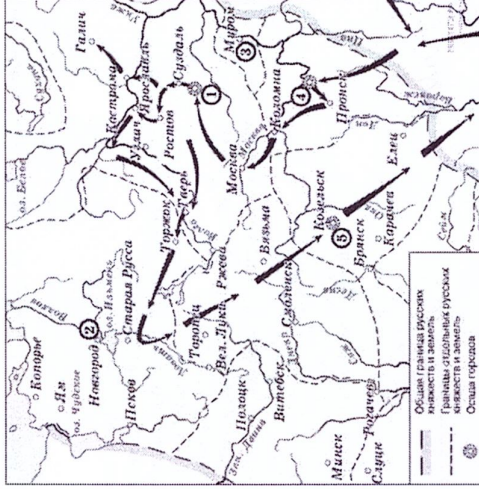
Задание 9.

Назовите второй по величине город Красноярья, самый крупный в мире город, расположенный за Полярным кругом. 5 баллов за правильный ответ

Дудинск

ВСЕРОССИЙСКАЯ ОЛИМПИАДА ШКОЛЬНИКОВ ПО ИСТОРИИ
ШКОЛЬНЫЙ ЭТАП. 8 КЛАСС

Задание 10. 150
Рассмотрите карту и выполните задания. За каждый правильный ответ – 3 балла, максимальный балл – 15.



10.1. К какому событию относится данная карта? Путь «Волга-Волга»

10.2. Напишите имя полководца, осуществившего поход, обозначенный на схеме стрелками Даниил Галицкий

10.3. Напишите название города, обозначенного на схеме цифрой «1» Владимир

10.4. Напишите цифру, которой обозначена земля, где во время похода, обозначенного на схеме, существовала республиканская форма правления 2

10.5. Какие суждения, относящиеся к событиям, обозначенным на схеме, являются верными? Выберите 3 суждения из шести предложенных (1 балл за каждое правильное суждение). Обведите верные ответы:

1. Завоеватели начали вторжение в пределы Руси, захватив город, обозначенный на схеме цифрой «4»
2. Город, обозначенный на схеме цифрой «5», не выдержал осады более одной недели
3. Поход, обозначенный на схеме стрелками, длился более 5 лет
4. Боярин Евпатий Коловрат прославился своей храбростью при обороне города, обозначенного на схеме цифрой «1»
5. Одной из причин победы завоевателей, осуществивших поход, были междоусобицы русских князей
6. Полководец, поход которого обозначен на схеме, создал впоследствии государство

БЛАНК ЗАДАНИЙ
ВСЕРОССИЙСКОЙ ОЛИМПИАДЫ ШКОЛЬНИКОВ ПО ИСТОРИИ
школьный этап 2023-2024 учебный год,
10-11 класс

Уважаемый участник!

Вам предстоит выполнить теоретические (письменные) задания.

Время выполнения заданий теоретического тура 90 минут.

Выполнение теоретических (письменных) заданий целесообразно организовать следующим образом:

- не спеша, внимательно прочитайте задание и определите, наиболее верный и полный ответ;
- отвечая на теоретический вопрос, обдумайте и сформулируйте конкретный ответ только на поставленный вопрос;
- особое внимание обратите на задания, в выполнении которых требуется выразить Ваше мнение с учетом анализа ситуации или поставленной проблемы. Внимательно и вдумчиво определите смысл вопроса и логику ответа (последовательность и точность изложения). Отвечая на вопрос, предлагайте свой вариант решения проблемы, при этом ответ должен быть кратким, но содержать необходимую информацию;
- после выполнения всех предложенных заданий еще раз удостоверьтесь в правильности выбранных Вами ответов и решений;
- спланируйте время так, чтобы на выполнение творческого задания у вас осталось достаточно времени.

Олимпиадные задания считаются выполненным, если Вы вовремя сдаете его членам жюри.

Максимальная оценка – 75 баллов.

ВСЕРОССИЙСКАЯ ОЛИМПИАДА ШКОЛЬНИКОВ ПО ИСТОРИИ
ШКОЛЬНЫЙ ЭТАП. 10-11 КЛАСС

Задание 1.

Выберите правильный ответ. Ответ внесите в таблицу. За каждый правильный ответ – 1 балл, максимальный балл – 4

1.1. В 1598 году Борис Годунов занял московский престол на основании:

- 1) завещания Фёдора Ивановича
- 2) постановления Земского собора
- 3) решения Боярской думы
- 4) захвата власти

1.2. На роль диктатора восстания на Сенатской площади 25 декабря 1825 г был назначен:

- 1) С.П. Трубецкой
- 2) П.И. Пестель
- 3) Е.П. Оболенский
- 4) А.Н. Суттоф

1.3. Во время русско-японской войны погиб выдающийся русский художник:

- 1) В.В. Верещагин
- 2) И. Е. Репин
- 3) И.К. Айвазовский

ВСЕРОССИЙСКАЯ ОЛИМПИАДА ШКОЛЬНИКОВ ПО ИСТОРИИ
ШКОЛЬНЫЙ ЭТАП. 10-11 КЛАСС

1.4. Историческая песня о Шелкене Дуденцевиче посвящена:

- 1) разорению Рязани ордынцами
- 2) битве на реке Калке
- 3) стоянию на р. Угре
- 4) восстанию жителей Твери против ордынцев

1.1	2	1.2	1	1.3	1	1.4	4
-----	---	-----	---	-----	---	-----	---

Задание 2.

Выберите несколько верных ответов. Ответы внесите в таблицу. За каждый правильный ответ – 1 балл, максимальный балл – 8

2.1. Кто из перечисленных исторических деятелей был современником императрицы Екатерины II:

- 1) Дмитрий Кантемир
- 2) Иодовик XIV
- 3) Гадеуш Костошко
- 4) Джордж Вашингтон
- 5) Елизавета Тюдор

2.2. Министрами финансов в XIX в. были:

- 1) Ф. Канкрин
- 2) Н. К. Гирс
- 3) Н. Х. Бунге
- 4) И.П. Шипов
- 5) А. Вышнеградский

Задание 3.

По какому принципу образованы ряды? Дайте краткий ответ. За каждый правильный ответ – 3 балла, максимальный балл – 6

3.1. Бухарский эмират, Хивинское ханство, Уссурийский край, Кокандское ханство.
Территория, присоединенные к России

3.2. С.А. Лавочкин, А.С. Яковлев, В.М. Петляков, Н.Д. Поликарпов.
Творцы советской авиации

Задание 4.

Прочитайте утверждения и ответьте на них «да» или «нет». Свои ответы внесите в таблицу. За каждый правильный ответ – 2 балла, максимальный балл – 14

- 4.1. Андрей Боголюбский занимался развитием земледелия в Новгороде
- 4.2. Дмитрий Донской вел войну с Великим князем Литовским Витовтом
- 4.3. После Полтавской битвы Карл XII укрылся в Речи Посполитой
- 4.4. Россия поддержала «опиумную войну», развязанную Англией и Францией против Китая, что вызвало недовольство в Пекине
- 4.5. Начало экспедициям вглубь Азии было положено в 1856 г. П.П. Семеновым-Тянь-Шанским
- 4.6. На Совещании глав правительств Великобритании, Франции, Германии и Италии в г. Мюнхене, сентябрь 1938 г. было принято решение о передаче Германии Судетской области
- 4.7. Денежная реформа С.Ю. Витте предусматривала введение конвертируемого серебряного рубля

4.1	нет	4.2	нет	4.3	да	4.4	да	4.5	да	4.6	нет	4.7	да
-----	-----	-----	-----	-----	----	-----	----	-----	----	-----	-----	-----	----

ВСЕРОССИЙСКАЯ ОЛИМПИАДА ШКОЛЬНИКОВ ПО ИСТОРИИ
ШКОЛЬНЫЙ ЭТАП. 10-11 КЛАСС

Задание 5.

Вставьте слова или словосочетания вместо пропусков, выбрав их из предложенного списка. В таблице укажите соответствие между номером пропуска и буквенным обозначением соответствующего слова (в тексте может изменяться форма данных слов (падеж, число), в списке слов и сочетаний слов больше, чем пропусков в тексте). За каждый правильный ответ – 1 балл, максимальный балл – 11

В XIV веке наиболее заметными из княжеств Северо-Восточной Руси были: (1...) княжество, выделившееся в (2...) годах, его первым князем был сын Александра Невского (3...); и (4...), образованное в (5...) году, первым его князем был младший брат Александра Невского (6...). Но главным по-прежнему считалось (7...) княжество, чей князь именовался (8...), и все князья стремились получить великокняжеский (9...). К тому же здесь находилась (10...) русского (11...).

- | | |
|-----------------|-------------------------|
| А. Владимирское | К. 1147 г. |
| Б. Рязанское | Л. Даниил Александрович |
| В. Московское | М. Юрий Данилович |
| Г. Ярлык | Н. 1247 г. |
| Д. Митрополит | О. Ярослав Ярославич |
| Е. Резиденция | П. Великий |
| Ж. Тверское | Р. Епископ |
| З. Туровское | С. Ордынское число |
| И. 1276 г. | |

1	2	3	4	5	6	7	8	9	10	11
В	К	Б	Г	Ж	О	А	П	Г	Е	Д

Задание 6.

Соотнесите элементы правого и левого столбцов таблицы. В правом столбце есть лишняя характеристика. Запишите ответ в таблицу. За каждый правильный ответ – 3 балла, максимальный балл – 12

- | | |
|---------------------|--|
| 1) П.М. Гаврилов | А) воздушный таран |
| 2) Н.Ф. Гастелло | Б) героическая битва на подступах к Москве |
| 3) В.Г. Ключков | В) героическая оборона Севастополя |
| 4) Ф.С. Октябрьский | Г) укрепление обороны Ленинграда |
| | Д) героическая оборона Брестской крепости |

1	2	3	4
Г	А	В	Д

Задание 7.

Что или кто является лишним в ряду? Подчеркните это слово и объясните почему. 1 балл – за выделение лишнего, 1 балл – за пояснение, максимальный балл – 6

- А) Василий Юрьевич Косой, Василий I Дмитриевич, Василий II Васильевич, Дмитрий Юрьевич Шемяка
Василий I не участвовал в сражениях во время войны.

- Б) Поляновский мир, Зборовский мир, Перечинский договор, Белогорковский договор
Белогорский договор не является договором о прекращении войны, а является мирным договором.


ВСЕРОССИЙСКАЯ ОЛИМПИАДА ШКОЛЬНИКОВ ПО ИСТОРИИ
ШКОЛЬНЫЙ ЭТАП. 10-11 КЛАСС

В) И.М. Сеченов, И.П. Павлов, И.И. Мечников, Н.М. Пржевальски


И.И. Мечников является биологом, а не историком.

Задание 8.

Перед Вами изображения исторических событий, определите какое событие изображено и укажите его точную дату. 1 балл за каждое правильно названное событие и 1 балл за правильную дату, максимальный балл – 8



1)



2)



3)



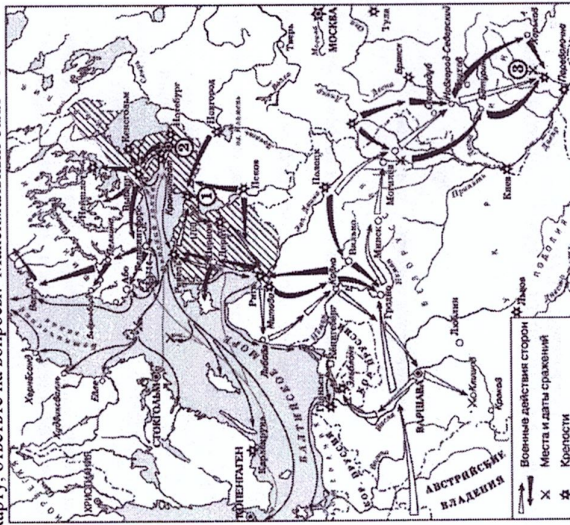
4)

6
 СЕВЕРНО-КАВКАССКАЯ ОЛИМПИАДА ШКОЛЬНИКОВ ПО ИСТОРИИ
 ШКОЛЬНЫЙ ЭТАП. 10-11 КЛАСС

№	СОБЫТИЕ	ДАТА
1	Стрелецкий бунт	1682 год
2	Кривавое воскресенье	Война 1505г.
3	Битва между Зарубеян	Сентябрь 1802г.
4	Восстание на Сахалине	25 декабря 1857г.

Задание 9.

Рассмотрите карту, ответьте на вопросы. Максимальный балл – 6



9.1. Какое событие изображено на схеме? (1 балл)
 Северная война

9.2. Укажите русского правителя, который правил в этот период (1 балл)
 Петр Великий

9.3. Каким мирным договором закончилась война? (1 балл)
 Нейштадтский мирный договор

9.4. Какие территории вошли в состав России? (максимум 3 балла, по 1 баллу за каждую территорию)
 Кяхтинская торговая дорога

БЛАНК ЗАДАНИЙ
ВСЕРОССИЙСКОЙ ОЛИМПИАДЫ ШКОЛЬНИКОВ ПО ИСТОРИИ
школьный этап 2023-2024 учебный год,
10-11 класс

Уважаемый участник!

Вам предстоит выполнить теоретические (письменные) задания.
Время выполнения заданий теоретического тура 90 минут.

Выполнение теоретических (письменных) заданий целесообразно организовать следующим образом:

- не спеша, внимательно прочитайте задание и определите, наиболее верный и полный ответ;
- отвечая на теоретический вопрос, обдумайте и сформулируйте конкретный ответ только на поставленный вопрос;
- особое внимание обратите на задания, в выполнении которых требуется выразить Ваше мнение с учетом анализа ситуации или поставленной проблемы. Внимательно и вдумчиво определите смысл вопроса и логику ответа (последовательность и точность изложения). Отвечая на вопрос, предлагайте свой вариант решения проблемы, при этом ответ должен быть кратким, но содержать необходимую информацию;

– после выполнения всех предложенных заданий еще раз удостоверьтесь в правильности выполненных Вами ответов и решений;

– спланируйте время так, чтобы на выполнение творческого задания у вас осталась достаточно времени;

Олимпиадные задания считаются выполненным, если Вы вовремя сдаете его членом жюри.

Максимальная оценка – 75 баллов.

ВСЕРОССИЙСКАЯ ОЛИМПИАДА ШКОЛЬНИКОВ ПО ИСТОРИИ
ШКОЛЬНЫЙ ЭТАП. 10-11 КЛАСС

Задание 1. **4**

1.2. Выберите правильный ответ. Ответ внесите в таблицу. За каждый правильный ответ – 1 балл, максимальный балл – 4

1.1. В 1598 году Борис Годунов занял московский престол на основании:

- 1) заветания Федора Иоанновича
- 2) постановления Земского собора
- 3) решения Боярской думы
- 4) захвата власти

1.3. На роль диктатора восстания на Сенатской площади 25 декабря 1825 г был назначен:

- 1) С. П. Трубецкой
- 2) П. И. Пестель
- 3) Е. П. Оболенский
- 4) А. Н. Суттоф

1.4. Во время русско-японской войны погиб выдающийся русский художник:

- 1) В. В. Верещагин
- 2) И. Е. Репин
- 3) И. К. Айвазовский
- 4) И. Куинджи

ВСЕРОССИЙСКАЯ ОЛИМПИАДА ШКОЛЬНИКОВ ПО ИСТОРИИ
ШКОЛЬНЫЙ ЭТАП. 10-11 КЛАСС

1.4. Историческая песня о Щелкане Дудентьевиче посвящена:

- 1) разорению Рязани ордынцами
- 2) битве на реке Калке
- 3) стоянию на р. Угре
- 4) восстанию жителей Твери против ордынцев

1.1	1.2	1.3	1.4
2	1	1	4

Задание 2.

Выберите несколько верных ответов. Ответы внесите в таблицу. За каждый правильный ответ – 1 балл, максимальный балл – 8

2.1. Кто из перечисленных исторических деятелей был современником императрицы Екатерины II:

- 1) Дмитрий Кантемир
- 2) Людвиг XIV
- 3) Тадеуш Костюшко
- 4) Джордж Вашингтон
- 5) Елизавета Тодор

2.2. Министрами финансов в XIX в. были:

- 1) Е. Ф. Канкрин
- 2) Н. К. Гирс
- 3) Н. Х. Бунге
- 4) И. П. Шипов
- 5) И. А. Вышнеградский

Задание 3. **6**

По какому принципу образованы ряды? Дайте краткий ответ. За каждый правильный ответ – 3 балла, максимальный балл – 6

- 3.1. Бухарский эмират, Хивинское ханство, Уссурийский край, Кокандское ханство
в Территории независимых государств в России
- 3.2. С. А. Лавочкин, А. С. Яковлев, В. М. Петляков, Н. Н. Поликарпов
в творчестве А. М. Прокофьева

Задание 4. **10**

Прочитайте утверждения и ответьте на них «да» или «нет». Свои ответы внесите в таблицу. За каждый правильный ответ – 2 балла, максимальный балл – 14

- 4.1. Андрей Боголюбский занимался развитием земледелия в Новгороде
- 4.2. Дмитрий Донской вел войну с Великим князем Литовским Витовтом
- 4.3. После Полтавской битвы Карл XII укрылся в Речи Посполитой
- 4.4. Россия поддержала «опиумную войну», развязанную Англией и Францией против Китая, что вызвало недовольство в Пекине
- 4.5. Начало экспедициям вглубь Азии было положено в 1856 г. П. П. Семеновым-Тянь-Шанским
- 4.6. На Советании глав правительства Великобритания, Франция, Германия и Италия в г. Мюнхене, сентябрь 1938 г. было принято решение о передаче Германии Судетской области
- 4.7. Денежная реформа С. Ю. Витте предусматривала введение конвертируемого серебряного рубля

4.1	4.2	4.3	4.4	4.5	4.6	4.7
нет	нет	нет	да	да	нет	да

ВСЕРОССИЙСКАЯ ОЛИМПИАДА ШКОЛЬНИКОВ ПО ИСТОРИИ
ШКОЛЬНЫЙ ЭТАП. 10-11 КЛАСС

Задание 5.
Вставьте слова или словосочетания вместо пропусков, выбрав их из предложенного списка. В таблице укажите соответствие между номером пропуска и буквенным обозначением соответствующего слова (в тексте может изменяться форма данных слов (падеж, число), в списке слов и сочетаний слов больше, чем пропусков в тексте). За каждый правильный ответ – 1 балл, максимальный балл – 11

В XIV веке наиболее заметными из княжеств Северо-Восточной Руси были: (1...) княжество, выделившееся в (2...) года, его первым князем был сын Александра Невского (3...); и (4...), образованное в (5...) году, первым его князем был младший брат Александра Невского (6...). Но главным по-прежнему считалось (7...) княжество, чей князь именовался (8...), и все князья стремились получить великокняжеский (9...). К тому же здесь находилась (10...) русского (11...).

- А. Владимирское
- Б. Рязанское
- В. Московское
- Г. Ярлык
- Д. Митрополит
- Е. Резиденция
- Ж. Тверское
- З. Туровское
- И. 1276 г.
- К. 1147 г.
- Л. Даниил Александрович
- М. Юрий Данилович
- Н. 1247 г.
- О. Ярослав Ярославич
- П. Великий
- Р. Епископ
- С. Ордянское число

1	2	3	4	5	6	7	8	9	10	11
В	К	Л	Б	Н	О	А	Ж	Г	Е	Д

Задание 6.
Соотнесите элементы правого и левого столбцов таблицы. В правом столбце есть лишняя характеристика. Запишите ответ в таблицу. За каждый правильный ответ – 3 балла, максимальный балл – 12

- 1) П.М. Гаврилов
- 2) Н.Ф. Гастелло
- 3) В.Г. Ключков
- 4) Ф.С. Октябрьский
- А) воздушный таран
- Б) героические бои на подступах к Москве
- В) героическая оборона Севастополя
- Г) укрепление обороны Ленинграда
- Д) героическая оборона Брестской крепости


1	2	3	4
Г	А	В	Б

Задание 7.
Что или кто является лишним в ряду? Подчеркните это слово и объясните почему. 1 балл – за выделение лишнего, 1 балл – за пояснение, максимальный балл – 6

- А) Василий Юрьевич Косой, Василий I Дмитриевич, Василий II Васильевич, Дмитрий Юрьевич Шемяка
- Б) Поляновский мир, Зборовский мир, Нерчинский договор, Белопольский договор

ВСЕРОССИЙСКАЯ ОЛИМПИАДА ШКОЛЬНИКОВ ПО ИСТОРИИ
ШКОЛЬНЫЙ ЭТАП. 10-11 КЛАСС


Задание 8.
Перед Вами изображения исторических событий, определите какое событие изображено и укажите его точную дату. 1 балл за каждое правильно названное событие и 1 балл за правильную дату, максимальный балл – 8




1)



2)



3)



4)

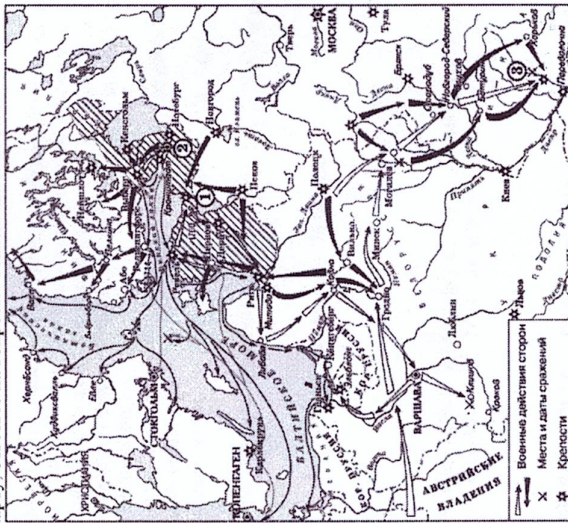
В) И.М. Сеченов, И.П. Павлов, И.И. Мечников, Н.М. Пржевальски
И. И. Троекуровские являлись великими князьями.

Список олимпиада школьников по истории
ШКОЛЬНЫЙ ЭТАП. 10-11 КЛАСС

СОБЫТИЕ	ДАТА
1 Греческий бунт	1687 год
2 Крестовые походы	9 января 1054 г
3 Битва между Стефаном	8 января 1380 г
4 Выход на сцену	25 января 1835 г

Задание 9.

Рассмотрите карту, ответьте на вопросы. Максимальный балл – 6



9.1. Какое событие изображено на схеме? (1 балл)

Крестовый поход

9.2. Укажите русского правителя, который правил в этот период (1 балл)

Царь Николай I

9.3. Каким мирным договором закончилась война? (1 балл)

Договор в Адрианопле

9.4. Какие территории вошли в состав России? (максимум 3 балла, по 1 баллу за каждую территорию)

Крым, Бессарабия, Валахия